

Propiedad Intelectual

El presente documento se encuentra depositado en el registro de Propiedad Intelectual de Digital Media Rights con ID de obra AAA-0181-02-AAA-012302

Fecha y hora de registro: 2013-09-26 17:30:23.0

Licencia de distribución: CC by-nc-sa



Queda prohibido el uso del presente documento y sus contenidos para fines que excedan los límites establecidos por la licencia de distribución.

Más información en <http://www.dmrighs.com>



LibrosMareaVerde.tk

www.apuntesmareaverde.org.es



Autora: Nieves Zuasti y Fernando Blasco

Revisor: Raquel Caro y Sergio Hernández

Ilustraciones: Banco de imágenes del INTEF

Índice

2. GRÁFICOS ESTADÍSTICOS

- 2.1. DIAGRAMA DE RECTÁNGULOS O DE BARRAS
- 2.2. DIAGRAMA DE LÍNEAS
- 2.3. PICTOGRAMA
- 2.4. DIAGRAMA DE SECTORES

3. MEDIDAS DE CENTRALIZACIÓN Y MEDIDAS DE DISPERSIÓN

- 3.1. MEDIA ARITMÉTICA
- 3.2. MODA
- 3.3. MEDIANA
- 3.4. MEDIDAS DE DISPERSIÓN

4. EL ORDENADOR Y LA ESTADÍSTICA

Resumen

Si quieres conocer la estatura o el peso de las personas que tienen entre 11 y 13 años en España, puedes recoger los datos de cada una de las personas de esas edades. Pero esto es muy laborioso. Lo que hace la Estadística es recoger una **muestra** que nos permita representar la totalidad de la población objeto de estudio. La recogida de datos es muy antigua. El emperador Augusto mandó hacer un censo, (o recogida de datos) de todo su Imperio.

El origen de la Probabilidad puede encontrarse en los juegos de azar, y los juegos de azar, dados, cartas, lotería... hacen un buen uso de la Estadística y la Probabilidad.

La Ciencia progresa deduciendo, mediante razonamientos lógicos correctos, e infiriendo, en que con unas observaciones experimentales, se induce algo más general.

En este capítulo repasaremos los conocimientos que ya tienes del curso pasado sobre frecuencias y probabilidad y la representación de datos estadísticos e iniciaremos el estudio de las medidas de centralización: media, mediana y moda.



2. GRÁFICOS ESTADÍSTICOS

Si hacemos una representación gráfica de los datos podremos comprender su significado con mucha más facilidad que si, simplemente los dejamos en forma de tabla. Para ello, naturalmente, ya tendremos que haber recogido los datos y elaborado una tabla.

Vamos a estudiar cuatro tipos de representaciones, el diagrama de rectángulos, el diagrama de líneas, el pictograma y el diagrama de sectores, aunque hay algunas otras representaciones posibles.

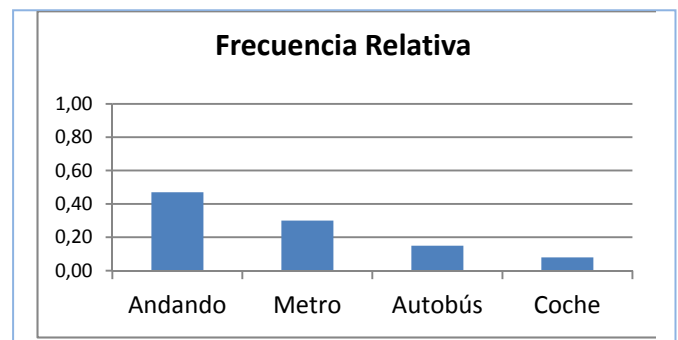
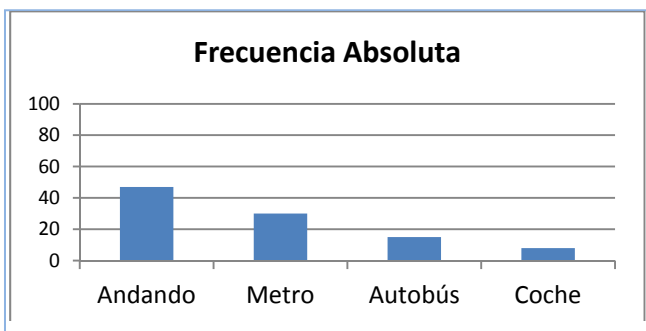
2.1. Diagrama de rectángulos o de barras

En un diagrama de rectángulos o de barras se indican en el eje horizontal todos los posibles resultados del experimento y en el eje vertical la frecuencia con la que dichos datos aparecen, por tanto podrá ser un diagrama de rectángulos de frecuencias absolutas, o relativas o acumuladas según la frecuencia utilizada.

Actividad resuelta

- + Preguntamos a 100 estudiantes cuál es el medio de transporte que utilizan para ir a la escuela. Las respuestas aparecen en la tabla del margen. Dibujamos el diagrama de rectángulos.

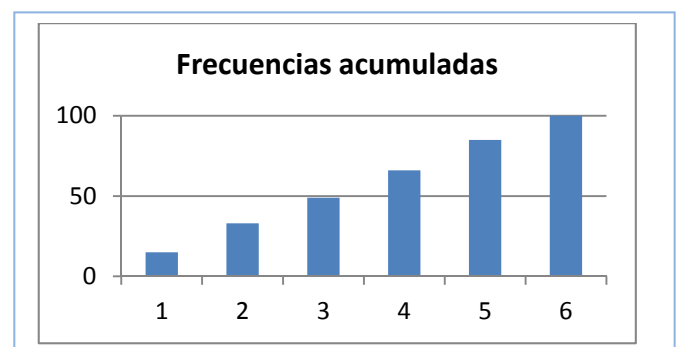
Medio de transporte	Frecuencia Absoluta	Frecuencia relativa
Andando	47	0,47
Metro	30	0,3
Autobús	15	0,15
Coche	8	0,8



+ Si queremos dibujar el diagrama de barras de frecuencias relativas, utilizamos la columna de frecuencias relativas para hacerlo, y se obtiene el diagrama denominado "*Frecuencia Relativa*". Si comparamos el diagrama de barras de frecuencias absolutas con el de relativas se observa que son iguales salvo en las unidades del eje de ordenadas, que ahora, en el de Frecuencias Relativas, siempre llegan hasta 1.

+ Tenemos la tabla de frecuencias acumuladas del experimento tirar un dado. Dibujamos el diagrama de barras de frecuencias acumuladas. Se observa como las barras van creciendo y la altura de la última coincide con la suma total, en este caso, 100, el total de veces que hemos tirado el dado.

Posibles resultados	Frecuencias absolutas	Frecuencias acumuladas
1	15	15
2	18	33
3	16	49
4	17	66
5	19	85
6	15	100
Suma total	100	



Actividades propuestas

Posibles resultados	Número de veces
cara	56
cruz	44

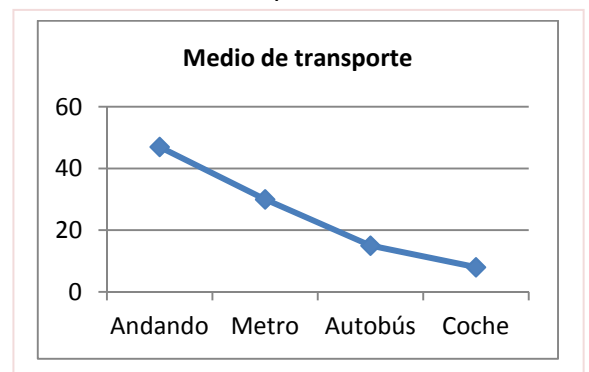
19. Dibuja el diagrama de rectángulos de frecuencias absolutas de la tabla adjunta. Representa también el diagrama de rectángulos de frecuencias relativas y de frecuencias absolutas acumuladas.

Posibles resultados	Frecuencias absolutas
1	15
2	18
3	16
4	17
5	19
6	15

20. Dibuja el diagrama de rectángulos de frecuencias absolutas de la tabla adjunta. Representa también el diagrama de rectángulos de frecuencias relativas y de frecuencias relativas acumuladas.

2.2. Diagrama de líneas

Igual que en el diagrama de rectángulos se indica en el eje horizontal todos los posibles resultados del experimento y en el eje vertical las frecuencias. En lugar de dibujar barras, ahora simplemente se unen los puntos obtenidos con líneas.



Actividad resuelta

- El diagrama de líneas absolutas de la actividad resuelta anterior es el del margen:



Actividades propuestas

21. Dibuja los diagramas de líneas de frecuencias absolutas, relativas y absolutas acumuladas del experimento tirar un dado de la actividad 20.

22. Dibuja los diagramas de líneas absolutas, relativas y relativas acumuladas del experimento tirar una moneda de la actividad 19.

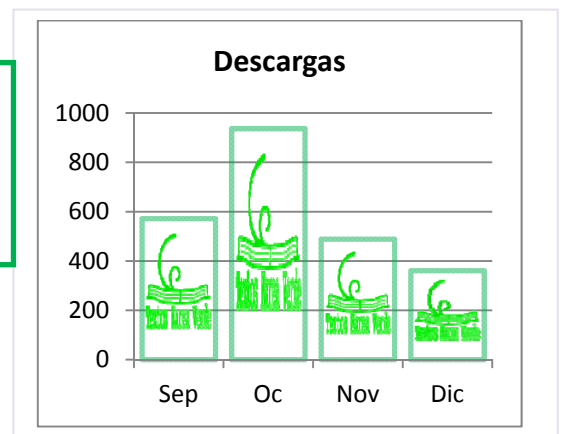
2.3. Pictograma

En los pictogramas se representan las frecuencias mediante una gráfica de barras rellenas de dibujos alusivos.

Actividad resuelta

- Se han obtenido datos sobre el número de descargas que se han hecho de los Textos Marea Verde y se tienen los datos indicados en la tabla. Se representan con un pictograma, sustituyendo el rectángulo por un dibujo alusivo.

Marea verde	Descargas
Septiembre	572
Octubre	937
Noviembre	489
Diciembre	361



2.4. Diagrama de sectores

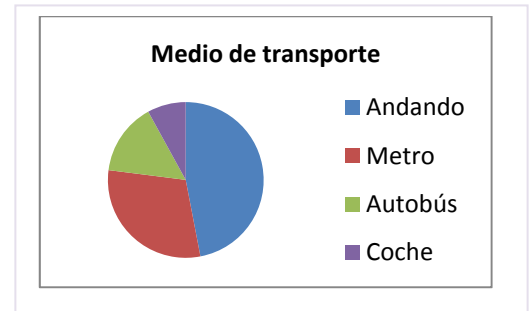
En los diagramas de sectores las frecuencias se representan en un círculo que se divide en sectores de amplitudes proporcionales a las frecuencias.

Actividad resuelta

- ✚ El diagrama de sectores de la tabla sobre el medio de transporte utilizado es:

Puedes observar que con una simple mirada sabes que algo menos de la mitad de los estudiantes van andando y algo más de la cuarta parte van en metro.

Pero realizarlo a mano requiere un trabajo previo pues debes calcular los ángulos mediante una regla de tres: multiplicas por los 360° que mide un ángulo completo y divides por el número total que en este caso es 100.



Medio de transporte	Frecuencia	Ángulo
Andando	47	$47 \cdot 360^\circ / 100 = 47 \cdot 3,6 = 169,2$
Metro	30	$30 \cdot 360^\circ / 100 = 108$
Autobús	15	$15 \cdot 360^\circ / 100 = 54$
Coche	8	$8 \cdot 360^\circ / 100 = 28,8$
TOTAL	100	360°



Actividades propuestas

- Haz un diagrama de sectores y un pictograma relativos al número de descargas de Textos Marea Verde del ejemplo visto en *Pictograma*.
- Dibuja un diagrama de sectores y un pictograma relativos a los datos de la actividad 19.
- Dibuja un diagrama de sectores y un pictograma relativos a los datos de la actividad 20.
- Haz una encuesta entre tus compañeros y compañeras de clase sobre el número de libros que leen al mes. Confecciona una tabla y representa los datos en un diagrama de rectángulos, un diagrama de líneas, un pictograma y un diagrama de sectores.
- Haz una encuesta entre tus compañeros y compañeras de clase sobre el número de horas diarias que ven la televisión. Confecciona una tabla y representa los datos en un diagrama de rectángulos, un diagrama de líneas, un pictograma y un diagrama de sectores.
- Haz una encuesta entre tus compañeros y compañeras de clase, pregunta al menos a 10 personas, sobre el tiempo que tardan en ir desde su casa al centro escolar. Confecciona una tabla y representa los datos en un diagrama de rectángulos, un diagrama de líneas, un pictograma y un diagrama de sectores.



3. MEDIDAS DE CENTRALIZACIÓN Y MEDIDAS DE DISPERSIÓN

Vamos a poder obtener unos números de una tabla de frecuencias o de unos datos que nos den información sobre su “centro” e información sobre lo que se alejan de dicho centro.

3.1. Media aritmética

Actividad resuelta

- ✚ Sabes muy bien calcular la media de tus notas. Juan ha tenido en Matemáticas, 7, 3, 5, 9, 8. Tu nota media la calculas sumando todas las notas: $7 + 3 + 5 + 9 + 8 = 33$, y dividiendo la suma entre el número total de notas: $33/5 = 6,6$.

En general si se quiere calcular la media de x_1, x_2, \dots, x_n , se hace lo mismo, se suman todos y se divide por el número total de datos.

$$\text{Media} = (x_1 + x_2 + \dots + x_n)/n$$

Actividades propuestas

29. Dadas las temperatura en una ciudad a una hora determinada el día 1 de cada mes se tiene la siguiente tabla:

	Enero	Febrero	Marzo	Abril	Mayo	Junio	Julio	Agosto	Septiembre	Octubre	Noviembre	Diciembre
Temperatura	-1	3	8	9	11	13	20	25	21	14	9	4

Calcula la temperatura media.

Actividad resuelta

Pero si tienes muchos datos y los tienes agrupados en una tabla de frecuencias, puedes hacerlo mejor de otra manera.

- ✚ Imagina que tienes las siguientes notas, a las que llamas x_i , con las frecuencias absolutas, a las que llamas f_i :

	Suma total											
x_i	0	1	2	3	4	5	6	7	8	9	10	
f_i	1	2	1	2	3	8	7	6	6	4	3	43

Esto significa que hay dos 1, hay dos 3, y que hay 8 personas que han sacado un 5. No vamos a sumar $1 + 1$ dos veces, o $5 + 5 + 5 \dots$ ocho veces, sino multiplicar $1 \cdot 2, 3 \cdot 2, 5 \cdot 8 \dots$

Añadimos una fila a la tabla con esos productos:

$x_i \cdot f_i$	0	2	2	6	12	40	42	42	48	36	30	260
-----------------	---	---	---	---	----	----	----	----	----	----	----	------------

Sumamos esa fila $x_i \cdot f_i$ y obtenemos 260. Como la de frecuencias f_i suma 43, las dividimos, por lo que la media resulta: $\text{Media} = 260 / 43 = 6,04$.

En general si la variable toma los valores x_1, x_2, \dots, x_n , con una frecuencia absoluta f_1, f_2, \dots, f_n , para calcular la media se multiplica cada valor por su frecuencia, se suman dichos productos y se divide por el total de datos:

$$\text{Media} = (x_1 \cdot f_1 + x_2 \cdot f_2 + \dots + x_n \cdot f_n) / (f_1 + f_2 + \dots + f_n)$$

Actividades propuestas

30. Se ha lanzado un dado 50 veces y se ha confeccionado la siguiente tabla de frecuencias absolutas:

x_i	1	2	3	4	5	6
f_i	9	8	7	8	8	10

Calcula la media y comprueba que es 3,56.

31. Lanzamos 2 dados y sumamos los valores obtenidos. Repetimos el experimento 100 veces y obtenemos la siguiente tabla de frecuencias absolutas.

x_i	2	3	4	5	6	7	8	9	10	11	12
f_i	3	6	7	8	16	20	15	8	7	6	4



a) Calcula la media.

b) Repite ahora tú los lanzamientos, ahora sólo 20, y calcula de nuevo la media.

Actividad resuelta

Una compañía de seguros de automóvil ha realizado un estudio sobre 1000 asegurados para saber cuánto dinero ha gastado la compañía en reparaciones por accidente. Los datos están en la tabla:

Dinero gastado en euros	De 0 a 100	De 100 a 300	De 300 a 500	De 500 a 900	De 900 a 1100	De 1100 a 1500	Más de 1500 euros
Número de asegurados	167	150	145	131	106	57	24

Ahora la cosa se complica. No conoces el valor de x_i . Puedes construir la tabla de frecuencia sustituyendo cada intervalo por su punto medio:

								Suma Total
x_i	50	200	400	700	1000	1300	1700	
f_i	167	150	145	131	106	57	24	780

Y ahora ya sabes calcular la media. Añadimos la fila de los productos $x_i \cdot f_i$.

$x_i \cdot f_i$	8350	30000	58000	91700	106000	74100	40800	408950
-----------------	------	-------	-------	-------	--------	-------	-------	--------

La suma de esos productos es: 408950, y la suma de las frecuencias es: 780, luego la media del dinero gastado en seguros es: Media = $408950 / 780 = 524'3 \text{ €}$.

Actividades propuestas

32. Calcula la media de los pesos de 40 estudiantes de un centro escolar, sabiendo que la tabla de frecuencias absolutas, con intervalos es:

Peso	35 - 41	41 - 47	47 - 53	53 - 59	59 - 65	65 - 71	71 - 77
Estudiantes	1	10	12	9	5	1	2

3.2. Moda

¿Qué es lo que está de moda? Lo que más se lleva.

La **moda** de una distribución de frecuencias es el valor más frecuente.

Actividad resuelta

La moda de las tablas de frecuencias siguientes es la indicada:

✚ Medio de transporte

Medio de transporte	Frecuencia
Andando	47
Metro	30
Autobús	15
Coche	8
TOTAL	100

La moda es ir *andando*.

✚ Notas

x_i	0	1	2	3	4	5	6	7	8	9	10
f_i	1	2	1	2	3	8	7	6	6	4	3

La moda es 5.

✚ Lanzamiento de un dado

x_i	1	2	3	4	5	6
f_i	9	8	7	8	8	10

La moda es 6.

✚ Lanzamiento de dos dados

x_i	2	3	4	5	6	7	8	9	10	11	12
f_i	3	6	7	8	16	20	15	8	7	6	4

La moda es 7.

Nota

Puede ocurrir que una distribución de frecuencias tenga más de una moda. Por ejemplo, la distribución:

x_i	1	2	3	4	5	6
f_i	9	8	9	8	8	9

tiene 3 modas, 1, 3 y 6, ya que el valor más alto de la frecuencia absoluta es 9 en los tres casos.

La moda permite clasificar los conjuntos de datos en *unimodales*, *bimodales* o *plurimodales*, según el número de modas que tengan.

3.3. Mediana

La **mediana** es el valor central que deja por debajo el mismo número de datos que por encima.

Una forma de calcular la mediana es ordenar los valores de menor a mayor, y si el número de datos es impar, el valor central es la mediana. Si el número de datos es par, la mediana es la media de los dos datos centrales.

Actividad resuelta

- ✚ La mediana de las notas, ya ordenadas siguientes: 2, 3, 5, 7, 9, 9, 10, es 7, pues es el valor central de un número impar de datos.
- ✚ La mediana de las notas: 2, 3, 4, 5, 7, 9, 9, 10, es la media entre 5 y 7, es decir, es 6, pues 5 y 7 son los valores centrales de un número par de datos.

Hay que destacar que esta medida de tendencia central, a diferencia de la media, no se ve afectada por valores extremos. Es decir, la mediana de las notas: 2, 3, 4, 5, 7, 9, 9, 1000, sigue siendo la media entre 5 y 7, es decir, 6.

Actividades propuestas

33. Calcula la media, la mediana y la moda de las distribuciones siguientes:

- a) 2, 3, 4, 5, 7, 9, 9, 1000
- b) 2, 3, 4, 5, 7, 9, 9, 10
- c) 0, 0, 4, 5, 7, 9, 9, 1000, 2000

Observa en cada caso cómo influyen los valores extremos.

3.4. Medidas de dispersión

Varianza es la media de los cuadrados de las distancias de los datos a la media.

$$\text{Varianza} = \frac{(x_1 - \bar{x})^2 + (x_2 - \bar{x})^2 + \dots + (x_n - \bar{x})^2}{n} = \frac{\sum (x_i - \bar{x})^2}{n}$$

Equivalentemente (desarrollando los cuadrados que aparecen en la expresión) se puede calcular mediante esta otra expresión:

$$\text{Varianza} = \frac{\sum x_i^2}{n} - \bar{x}^2$$

Desviación típica es la raíz cuadrada de la varianza.

Se representa por σ .

$$\sigma = \sqrt{\frac{\sum x_i^2}{n} - \bar{x}^2}$$

Actividades resueltas

- Las alturas de los 12 jugadores de la Selección Española de Baloncesto (en metros) que participaron en la Eurocopa 2013 se recogen en la siguiente tabla:

2'03	1'96	1'91	2'11	1'91	1'93	2'08	1'99	1'90	2'16	2'06	2'03
------	------	------	------	------	------	------	------	------	------	------	------

Calculamos la media y se obtiene 2'0058. Calcula la varianza y la desviación típica.

Para calcular la **varianza** primero calcularemos la suma que aparece en el numerador, de modo similar a como acabamos de hacer. Después terminaremos dividiendo entre el número de datos.

$$(2'03 - 2'0058)^2 + (2'06 - 2'0058)^2 + (2'16 - 2'0058)^2 + (1'90 - 2'0058)^2 + (1'99 - 2'0058)^2 + (2'08 - 2'0058)^2 + (1'93 - 2'0058)^2 + (1'91 - 2'0058)^2 + (2'11 - 2'0058)^2 + (1'91 - 2'0058)^2 + (1'96 - 2'0058)^2 + (2'03 - 2'0058)^2 = 0'08934$$

Así la **varianza** es $0'08934/12 = 0'00744$

La **desviación típica** es la raíz cuadrada de la varianza: $\sigma = \sqrt{0'00744} = 0'08628$.

Actividades propuestas

34. Calcula la media, la varianza y la desviación típica de los datos siguientes:

- a) 2, 3, 4, 5, 7, 9, 9, 1000
 b) 2, 3, 4, 5, 7, 9, 9, 10
 c) 0, 0, 4, 5, 7, 9, 9, 1000, 2000

35. Dadas las temperatura en una ciudad a una hora determinada el día 1 de cada mes se tiene la siguiente tabla:

	Enero	Febrero	Marzo	Abril	Mayo	Junio	Julio	Agosto	Septiembre	Octubre	Noviembre	Diciembre
Temperatura	-1	3	8	9	11	13	20	25	21	14	9	4

Calcula la media, la varianza y la desviación típica de los datos siguientes:

Si tenemos frecuencias relativas las expresiones son:

$$\text{Varianza} = \sigma^2 = \frac{\sum f_i \cdot (x_i - \bar{x})^2}{\sum f_i} = \sigma^2 = \frac{\sum f_i \cdot x_i^2}{\sum f_i} - \bar{x}^2$$

Por tanto la **desviación típica** se calcula:

$$\sigma = \sqrt{\frac{\sum f_i \cdot (x_i - \bar{x})^2}{\sum f_i}} = \sqrt{\frac{\sum f_i \cdot x_i^2}{\sum f_i} - \bar{x}^2}$$

Actividades propuestas

36. Se ha lanzado un dado 50 veces y se ha confeccionado la siguiente tabla de frecuencias absolutas:

x_i	1	2	3	4	5	6
f_i	9	8	7	8	8	10

La media es 3,56. Calcula la varianza y la desviación típica.

4. EL ORDENADOR Y LA ESTADÍSTICA

El ordenador puede ayudar mucho en los cálculos estadísticos. Hay muchos programas para ello. En particular son fáciles de usar las hojas de cálculo. Vamos a resolver un problema utilizando una de ellas.

Actividad resuelta

- Se conocen las cantidades de residuos sólidos recogidos en m^3/semana durante 12 semanas de una urbanización:

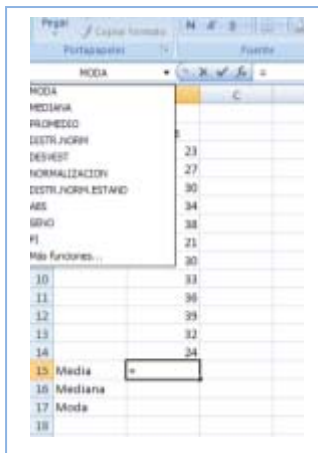
23, 27, 30, 34, 38, 21, 30, 33, 36, 39, 32, 24.

Para calcular la **media**, la **mediana** o la **moda**, abrimos la hoja de cálculo. Consta de filas indicadas por las letras A, B, C... y columnas indicadas por los números 1, 2, 3... cada casilla se identifica por su columna y su fila, por ejemplo, A1 es la primera casilla.

Escribimos los datos que nos han dado en la columna B a partir de la fila 3, dejando la primera columna y las dos primeras filas para poner títulos.

Escribimos en B2: Residuos; en A15: Media; en A16: Mediana; y en A17: Moda.

Nos colocamos sobre la casilla B15. En la ventana fx escribimos el signo igual: =, y desplegamos las funciones de la lista de la izquierda. Nos interesan: PROMEDIO (que es la media), MEDIANA y MODA.



Escribimos en la casilla B15:

=PROMEDIO(B3:B14),

y obtenemos la media que es 30,58.

Observa lo que esa expresión significa. Estás diciendo al ordenador que calcule la media (promedio) de los datos que están entre la casilla B3 y la casilla B14.

Para calcular la mediana nos colocamos en la casilla B16 y escribimos:

=MEDIANA(B3:B14),

y para calcular la moda nos colocamos en

B17 y escribimos: =MODA(B3:B14).

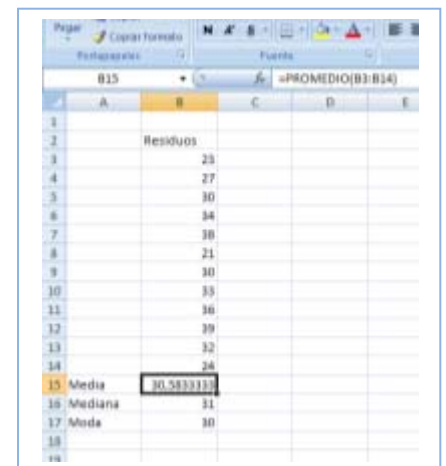
Hemos obtenido que la mediana es 31 y la moda es 30.

Puedes investigar la cantidad de funciones que tiene el ordenador que también calcula (y que aún no conoces), desviación típica, coeficiente de curtosis, valor mínimo, valor máximo, cuartil...

También dibuja gráficas con facilidad. Para que tenga sentido deberíamos agrupar los datos en una tabla. Pero si desarrollas el menú de "Insertar" puedes ver los tipos de gráficas que puedes dibujar: de *columna*, *línea*, *circular*, *barra*, *dispersión*...

Hemos dibujado un diagrama de rectángulos seleccionando los datos e insertando un gráfico de columnas.

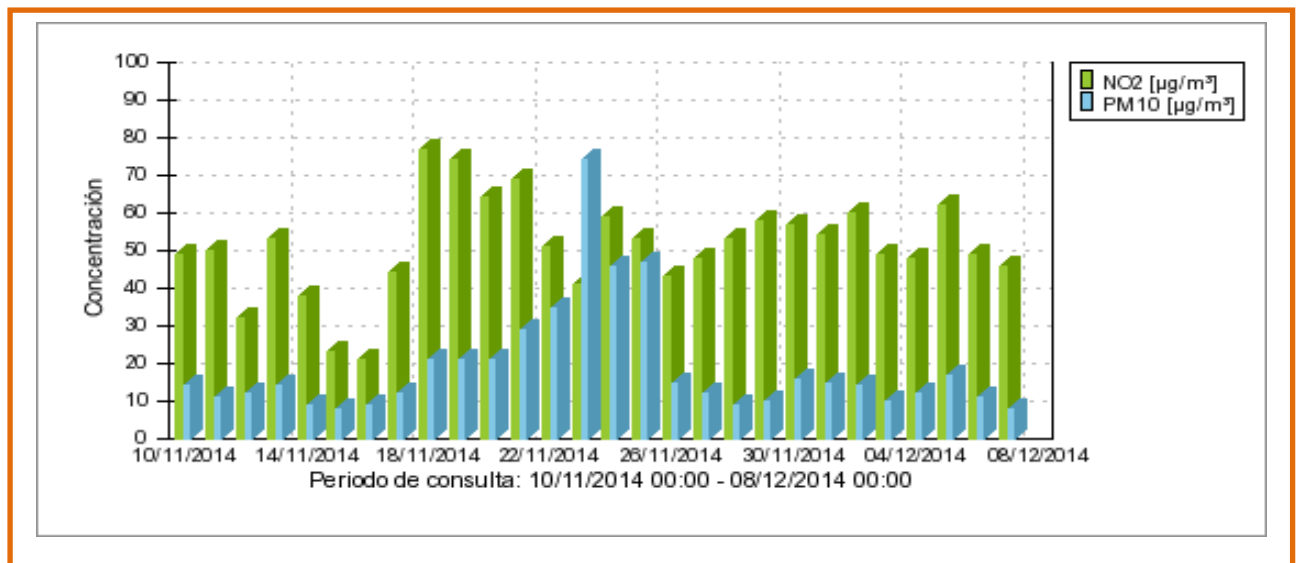
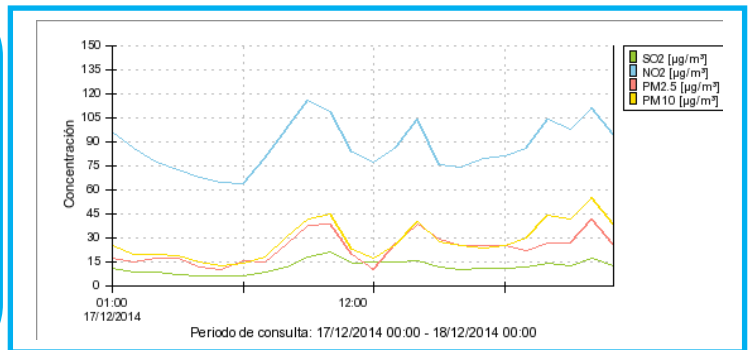
Juega con el ordenador. Inserta otros gráficos distintos de columna, de línea, circular, barra, dispersión e indica a qué tipo de representación corresponden.



CURIOSIDADES. REVISTA

Series temporales sobre la calidad del aire en Madrid

En Madrid se controla la calidad del aire. Puedes ver el **diagrama de líneas** de las concentraciones de **NO₂**, **SO₂** y **partículas** durante un día en la estación de Cuatro Caminos. En el eje de abscisas aparece el tiempo, las 24 horas. En el eje de ordenadas las distintas concentraciones.



Tenemos ahora un **diagrama de barras** también de la estación de Cuatro Caminos de únicamente NO₂ y partículas con los valores **medios** diarios durante cuatro semanas, a partir del 8 de diciembre. Analiza esta nueva serie temporal. Consideras que estos valores son altos o son bajos

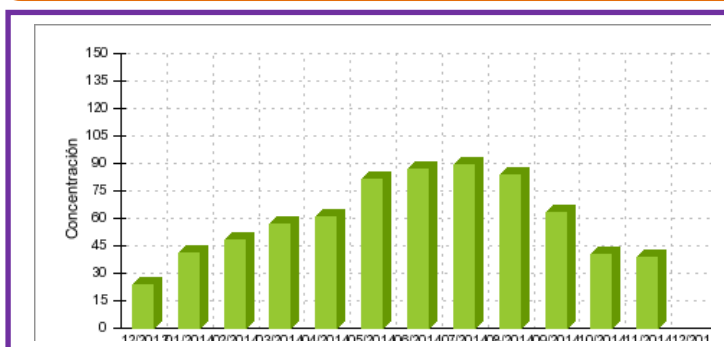


Diagrama de barras de la concentración de **ozono** en la estación de la Casa de Campo con los valores **medios** mensuales obtenidos durante un **año**. Cuándo es mayor la concentración de ozono, ¿en invierno o en verano?

La Comunidad de Madrid y el Ayuntamiento de Madrid controlan la calidad del aire, lo que es obligatorio para cumplir con las directivas europeas. Puedes buscar información en Internet escribiendo: <http://www.mambiente.munimadrid.es/svca/index.php>. o simplemente "calidad del aire en Madrid".

RESUMEN

		Ejemplos
Fenómeno o experimento aleatorio	Es aquel en el que no se puede predecir el resultado. Los datos estadísticos son los valores que se obtienen en un experimento.	Tirar una moneda y saber si va a salir cara o cruz
Frecuencia absoluta	Número de veces que se repite un dato estadístico	Si al tirar un dado hemos obtenido 2 veces el 3, 2 es la frecuencia absoluta de 3.
Frecuencia relativa	Frecuencia absoluta dividido por el número de experimentos	Si se realiza un experimento 500 veces y la frecuencia absoluta de un suceso es 107, la frecuencia relativa es 107/500.
Frecuencia acumulada	Se suman las frecuencias anteriores	
Suceso posible.	Posible resultado de un experimento aleatorio	En el experimento aleatorio tirar un dado el conjunto de posibles resultados, o el conjunto de sucesos elementales o espacio muestral es {1, 2, 3, 4, 5, 6}, por tanto, un posible resultado es, por ejemplo, 3.
Espacio muestral	Conjunto de resultados posibles	
Sucesos elementales	Elementos del espacio muestral	
Diagrama de rectángulos	Los datos se representan mediante rectángulos de igual base y de altura proporcional a la frecuencia. Se indica en el eje horizontal la variable y en el vertical las frecuencias.	<p>Diagrama de rectángulos</p> <p>100 0 No emigran Mueren Llegan sanos a África</p> <p>Polígono de frecuencias</p> <p>100 0 No emigran Mueren Llegan sanos a África</p> <p>Diagrama de sectores</p>
Diagrama de líneas	Se unen los puntos superiores de un una diagrama de rectángulos	
Pictograma	Se sustituye los rectángulos por un dibujo representativo	
Diagrama de sectores	En un círculo se dibujan sectores de ángulos proporcionales a las frecuencias	
Media aritmética	Es el cociente entre la suma de todos los datos y el número total de datos.	En los datos 3, 5, 5, 7, 8, la media es: $(3 + 5 + 5 + 7 + 8)/5 = 28/5 = 5,6$. La moda es: 5. La mediana es 5
Mediana	Deja por debajo la mitad de los valores y por encima la otra mitad	
Moda	El valor que más se repite.	

EJERCICIOS Y PROBLEMAS**El azar y la probabilidad**

1. Una urna que contiene 10 bolas numeradas del 0 al 9, sacamos una bola, anotamos el número y devolvemos la bola a la urna. Repetimos el experimento 1000 veces y se han obtenido los resultados indicados en la tabla:

Resultado	0	1	2	3	4	5	6	7	8	9
Frecuencia absoluta	79	102			93	98	104	77		
Frecuencia relativa			0,12	0,13					0,1	
Frecuencia absoluta acumulada	79	181								
Frecuencia relativa acumulada										1

- a) ¿Cuál es la frecuencia absoluta de 9?
- b) ¿Cuál es la frecuencia absoluta acumulada de 2?
- c) ¿Cuál es la frecuencia relativa acumulada de 1?
- d) Copia la tabla en tu cuaderno y complétala.
2. Clasifica los siguientes sucesos en imposibles, poco probables, posibles, muy probables y seguros:
- a) Tener un accidente de tráfico.
- b) Salir de paseo y cruzar alguna calle.
- c) Salir de paseo y que te caiga un rayo.
- d) Mañana nazca algún niño en París.
- e) Mañana no amanezca.
- f) Mañana llueva.
3. Pepa ha tirado un dado 25 veces y ha obtenido los siguientes resultados:
1, 2, 5, 6, 3, 1, 4, 5, 6, 1, 3, 1, 2, 2, 1, 6, 2, 2, 4, 3, 4, 6, 6, 1, 4
- a) Escribe en tu cuaderno una tabla de frecuencias absolutas.
- b) Escribe otra de frecuencias relativas.
- c) Dibuja un diagrama de rectángulos.
- d) Dibuja un diagrama de líneas y una representación por sectores.
4. La duración en minutos de unas llamadas telefónicas ha sido:
7, 3, 6, 3, 7, 5, 4, 3, 5, 7, 10, 1, 9, 12, 2

Elabora una tabla de frecuencias absolutas y una tabla de frecuencias relativas.

Gráficos estadísticos

5. Se hace una encuesta sobre el número de veces que van unos jóvenes al mes al cine. Los datos están en la tabla:

Veces que van al cine	0	1	2	3	4	5
Frecuencia absoluta	1	7	9	5	2	1

- a) Representa un diagrama de rectángulos de frecuencias absolutas.
 b) Representa un diagrama de líneas de frecuencias relativas.
 c) Haz un pictograma
 d) Representa los datos en un diagrama de sectores.
6. Se hace un estudio sobre lo que se recicla en una ciudad y se hace una tabla con el peso en porcentaje de los distintos tipos de residuos:

Tipo de residuo	Porcentaje
Orgánico	15
Papel y cartón	1
Vidrio	15
Plástico	1
Pilas	15

- a) Haz un diagrama de rectángulos
 b) Representa un diagrama de líneas.
 c) Haz un pictograma
 d) Representa los datos en un digrama de sectores.
7. ¿Cuánto vale la suma de las alturas de un diagrama de rectángulos de frecuencias relativas.
8. Se ha medido en una clase el tamaño de las manos de cada uno de los alumnos y alumnas, y el resultado en centímetros ha sido el siguiente:

19, 18, 20, 19, 18, 21, 19, 17, 16, 20,
 16, 19, 20, 21, 18, 17, 20, 19, 22, 21,
 23, 21, 17, 18, 17, 19, 21, 20, 16, 19

Representa los datos en un diagrama de rectángulos y en un diagrama de líneas.

9. En una clase se ha preguntado por las preferencias deportivas y se ha obtenido:

Futbol	Baloncesto	Natación	Kárate	Ciclismo
8	9	7	6	10

- a) Copia la tabla en tu cuaderno y haz una tabla de frecuencias relativas.
 b) Representa estos datos en un diagrama de sectores.
 c) Haz un pictograma.
10. El 35 % de las cigüeñas no ha emigrado este año a África y el 6 % murió por el camino. Dibuja un diagrama por sectores que describa esta situación.

Medidas de centralización

11. Javier ha tirado un dado 10 veces y ha obtenido los siguientes resultados:

6, 3, 1, 4, 2, 2, 1, 4, 3, 4

Calcula la media aritmética.

12. Raquel ha tenido las siguientes notas en sus exámenes de Lengua: 7, 5, 6, 4, 7, 10, 7. Calcula la media aritmética.

13. Se ha medido el tamaño de la mano de 10 alumnos y alumnas, y el resultado en centímetros ha sido el siguiente:

19, 18, 21, 21, 18, 17, 18, 17, 19, 21

Calcula la media aritmética.

14. Nos interesa conocer la distribución de notas obtenidas por 20 estudiantes. Las notas son:

2, 8, 9, 0, 0, 5, 8, 2, 7, 1, 6, 3, 7, 2, 4, 9, 4, 9, 5, 1

- Escribe en tu cuaderno una tabla de frecuencias absolutas.
- Haz un diagrama de líneas de frecuencias absolutas.
- Calcula la media.

15. Los jugadores de un equipo de baloncesto tiene las siguientes edades:

13, 12, 14, 11, 12, 12.

Calcula la media.

16. Hacemos una encuesta preguntando a 10 familias cuántos hijos tienen. Los resultados son:

0, 1, 0, 2, 1, 4, 3, 2, 1, 1

Calcula la media.

17. Pepa ha tirado un dado 25 veces y ha obtenido los siguientes resultados:

1, 2, 5, 6, 3, 1, 4, 5, 6, 1, 3, 1, 2, 2, 1, 6, 2, 2, 4, 3, 4, 6, 6, 1, 4

- Calcula la media aritmética
- Calcula la mediana
- ¿Cuál es la moda? ¿Es única?

18. Sara ha tenido las siguientes notas en sus exámenes de Matemáticas: 9, 7, 8, 6, 9, 10, 9

- Calcula la media aritmética
- Calcula la mediana
- ¿Cuál es la moda? ¿Es única?

19. Se ha tenido el resultado de medir en una clase el tamaño de las manos de cada uno de los alumnos y alumnas, y el resultado en centímetros ha sido el siguiente:

19, 18, 20, 19, 18, 21, 19, 17, 16, 20,

16, 19, 20, 21, 18, 17, 20, 19, 22, 21,

23, 21, 17, 18, 17, 19, 21, 20, 16, 19

- Calcula la media aritmética
- Calcula la mediana
- ¿Cuál es la moda? ¿Es única?

20. Nos interesa conocer la distribución de notas obtenidas por 40 estudiantes. Las notas son:

4, 1, 7, 10, 3, 2, 8, 9, 0, 0, 5, 8, 2, 7, 1, 2, 8, 10, 2, 10,

3, 4, 8, 9, 3, 6, 3, 7, 2, 4, 9, 4, 9, 5, 1, 3, 3, 9, 7, 8, 10

- Escribe en tu cuaderno una tabla de frecuencias absolutas.
- Haz un diagrama de líneas de frecuencias absolutas.
- Calcula la media
- Calcula la mediana
- Calcula la moda

21. Hacemos una encuesta preguntando a 10 familias cuántas mascotas tienen. Los resultados son:

0, 1, 0, 2, 1, 4, 3, 0, 0, 1

Calcula la media, la mediana y la moda.

22. Los jugadores de un equipo de balonmano tiene las siguientes edades:

12, 14, 13, 12, 15, 11, 12, 12, 13, 14, 11, 12, 12.

- Calcula la media
- Calcula la mediana
- Calcula la moda

Ordenador

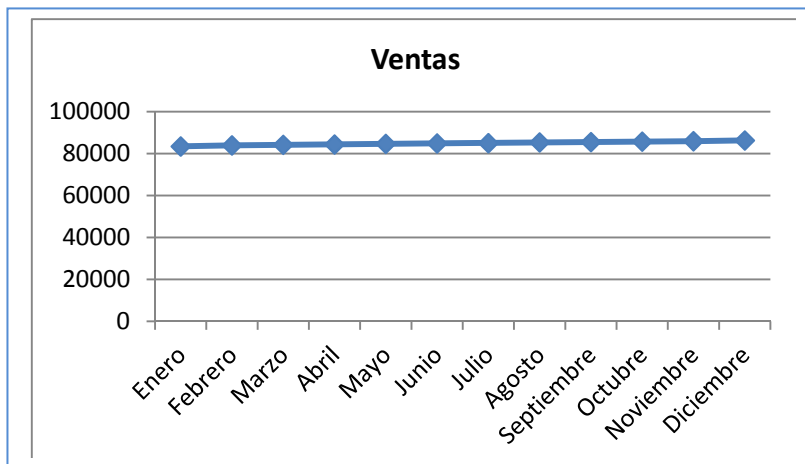
23. Introduce los datos de la encuesta sobre el número de mascotas en el ordenador y vuelve a calcular la media, la mediana y la moda.
24. Organiza los datos en una tabla calculando las frecuencias absolutas de 0, 1, 2, 3 y 4. Introduce esta tabla en el ordenador y haz una representación de barras, un diagrama de líneas y un diagrama de sectores.
25. Utiliza el ordenador para comprobar los resultados obtenidos en los ejercicios anteriores.
26. Realiza una encuesta en tu clase y lleva los resultados a un ordenador para hacer un informe. La encuesta podría ser, por ejemplo, si le gusta o no una determinada serie de televisión, o un programa; o el número de días de la semana que hacen algún deporte, el tipo de música que les gusta; o... Piensa sobre qué podrías preguntar.

Problemas

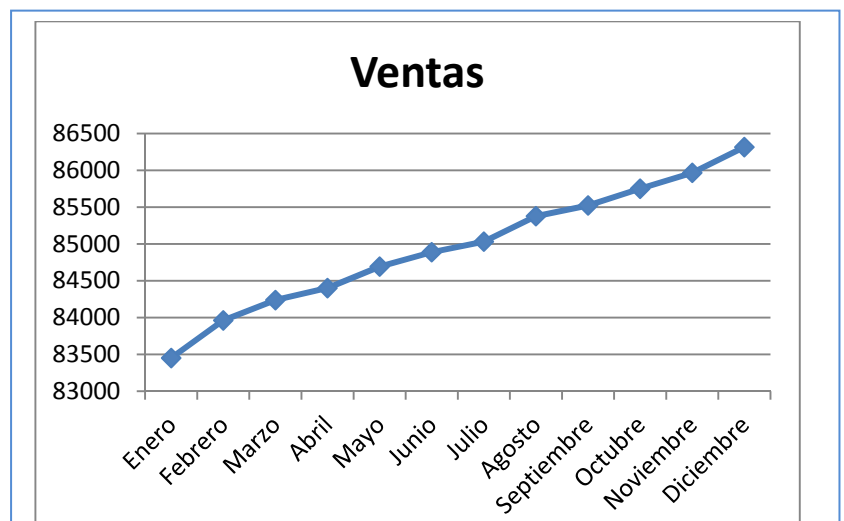
27. El Director Comercial de una empresa va a ser evaluado. Para ello debe dar cuenta de los resultados obtenidos. Quiere quedar bien, pues eso le puede suponer un aumento de sueldo. Se han vendido las siguientes cantidades:

Meses	Enero	Febrero	Marzo	Abril	Mayo	Junio	Julio	Agosto	Septiembre	Octubre	Noviembre	Diciembre
Ventas	83451	83962	84238	84401	84693	84889	85032	85378	85524	85751	859967	86316

El estadístico de la empresa le ha entregado la siguiente gráfica:



No le ha gustado nada, y para la presentación él se ha confeccionado el siguiente gráfico:



Ambos gráficos son correctos.

Escribe un informe sobre cómo pueden los distintos gráficos dar impresiones tan diferentes.

28. Tira una moneda 100 veces y anota los resultados obtenidos: C, C, x, Construye una nueva lista anotando, cada vez que haya salido cara, el resultado siguiente: C, x, ... Confecciona luego dos tablas: una de frecuencias absolutas y otra de frecuencias relativas. Representa los resultados en un diagrama de barras y en un diagrama de sectores.

29. Se conoce el volumen semanal de residuos sólidos recogidos en m^3 durante las 52 semanas de un año, en un municipio pequeño: 25'5, 27'1, 31'8, 34'2, 38'9, 21'3, 28'7, 33'2, 36'5, 39'6, 25'2, 24'7, 23'2, 23'3, 22'2, 26'4, 26'7, 29'6, 31'3, 30'5, 28'3, 29'1, 26'7, 25'2, 24'5, 23'7, 25'4, 27'2, 31'7, 34'5, 38'4, 21'2, 28'1, 33'7, 36'8, 39'9, 31'7, 34'4, 38'2, 21'9, 28'1, 33'5, 25'2, 24'7, 23'2, 23'3, 22'2, 26'4, 25'9, 24'1, 23'2, 23'6, 26'4.

Calcula la media, la moda, la mediana, la varianza y la desviación típica.

30. Con los datos del problema anterior:

- Representa los datos en una tabla tomando intervalos de longitud dos m^3 : (21, 23), (23, 25), ... (39, 41)
- Dibuja un diagrama de rectángulos y un diagrama de líneas de frecuencias absolutas.
- ¿Cuántas familias tienen un volumen de basuras mayor que 31 m^3 ?
- ¿Qué porcentaje de familias tienen un volumen de basuras menor que 35 m^3 ?

31. Busca en revistas o periódicos dos gráficas estadísticas, recórtalas y pégalas en tu cuaderno. En muchas ocasiones estas gráficas tienen errores. Obsérvalas detenidamente y comenta las siguientes cuestiones:

- ¿Está clara la variable a la que se refiere? ¿Y las frecuencias?
- ¿Son correctas las unidades? ¿Pueden mejorarse?
- Comenta las gráficas.

32. La media de seis números es 5. Se añaden dos números más pero la media sigue siendo 5. ¿Cuánto suman estos dos números?

AUTOEVALUACIÓN

1. Indica la respuesta correcta:
 - a) La frecuencia relativa se obtiene dividiendo por 100 la frecuencia absoluta
 - b) La frecuencia relativa se obtiene sumando todos los valores anteriores
 - c) La frecuencia relativa se obtiene dividiendo la frecuencia absoluta por el total de experimentos.
 - d) Frecuencia relativa es lo mismo que probabilidad

2. Se extrae una carta de una baraja española. La probabilidad de que sea un rey es:
 - a) $1/40$
 - b) $0,25$
 - c) $4/40$
 - d) $10/40$

3. Indica cual es la frase que falta en la siguiente definición:
 En las frecuencias se representan en un círculo que se divide en sectores circulares de amplitudes proporcionales a las frecuencias.
 - a) Diagrama de líneas
 - b) Diagrama de rectángulos
 - c) Pictograma
 - d) Diagrama de sectores

4. Si en una tabla de frecuencias a un valor le corresponde una frecuencia relativa de $0,125$, al dibujar un diagrama de sectores el ángulo correspondiente es de:
 - a) 45°
 - b) 30°
 - c) 60°
 - d) 72°

5. En un diagrama de rectángulos de frecuencias relativas, la suma de sus alturas es igual a:
 - a) 100
 - b) 1
 - c) Total de datos
 - d) Suma de sus bases

6. La media de los siguientes datos 7; 0; 9,5; 2; 4,1; 3,8, es:
 - a) 6,3
 - b) 3,8
 - c) 4,4
 - d) 5,5

7. La mediana de los siguientes datos 3, 4, 6, 7, 8, es:
 - a) 6
 - b) 7
 - c) 4
 - d) 5

8. La moda de los siguientes datos 3, 4, 6, 7, 5, 8, 7, 7, es:
 - a) 6
 - b) 7
 - c) 4
 - d) 5

9. Se tira un dado. ¿Cuál es la probabilidad de que no sea un 2?
 - a) $3/4$
 - b) $1/6$
 - c) $2/6$
 - d) $5/6$

10. Queremos saber los deportes que hacen los escolares de un cierto centro. Pasamos una encuesta a 20 de 2º A. Indica en este caso quién es la población y quien es una muestra:
 - a) Estudiantes de España y estudiantes de ese centro
 - b) Estudiantes de ese centro y estudiantes de 2º A
 - c) Estudiantes de ese centro y los 20 estudiantes de 2º A
 - d) Estudiantes de 2º A y los 20 estudiantes elegidos de 2º A